

WorksheetCloud: Memorandum

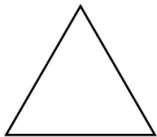
Graad 2

Wiskunde

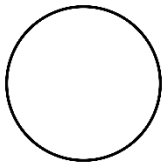
2D Vorms

Kies die regte naam om by die vorm te pas. Skryf dit op die lyn.

sirkel, vierkant, reghoek, driehoek




driehoek



sirkel



vierkant



reghoek

Hoeveel hoeke het 'n :

Reghoek 4

Vierkant 4

Sirkel 0

Driehoek 3

Kan jy aan enige ander 2D vorms dink?

Teken nog 'n 2D vorm. Teken enige
ander 2D vorm bv. hart