



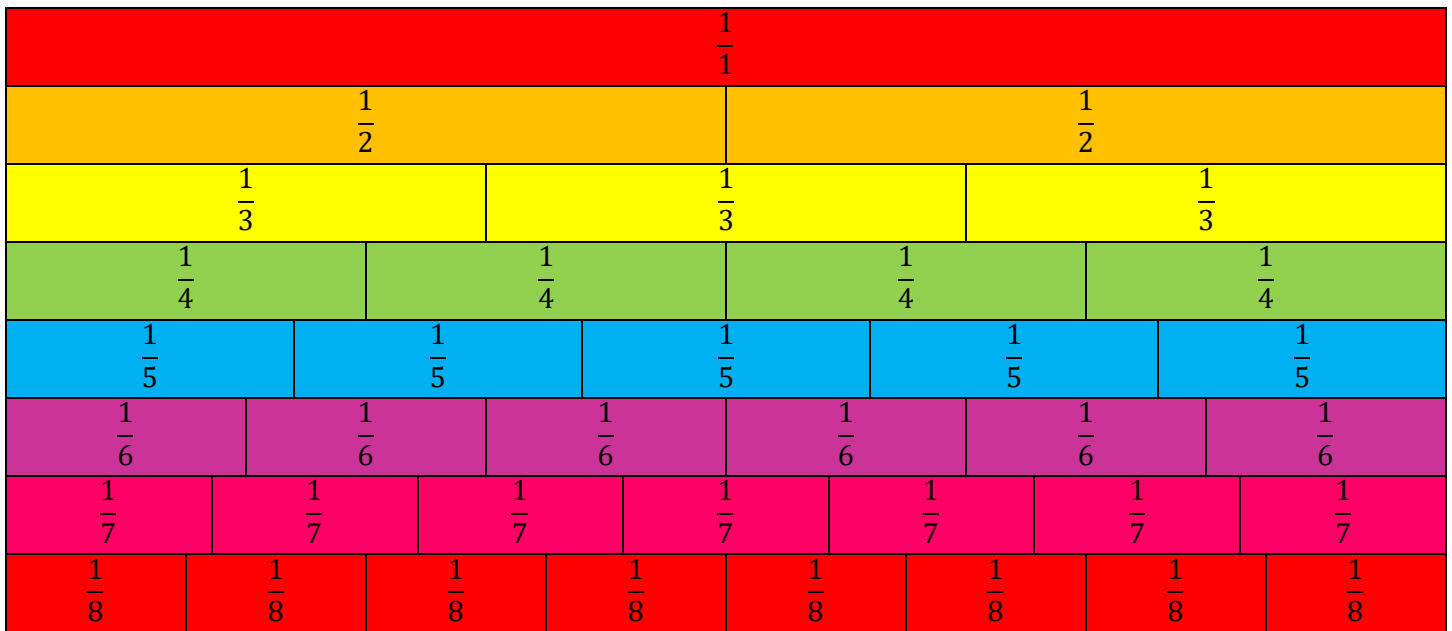
WorksheetCloud

.Graad 4 – Wiskunde

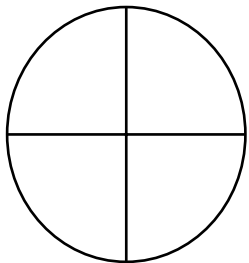
Breuke

Aktiwiteit

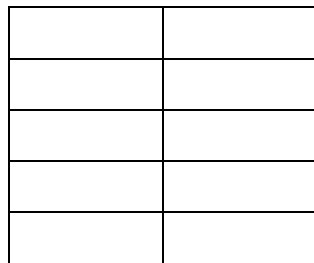
Breukemuur



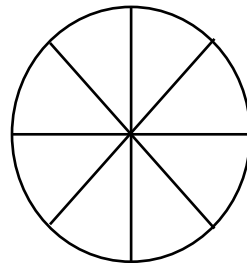
I. Kleur die volgende breuke in op die vorms wat aan jou voorsien word:



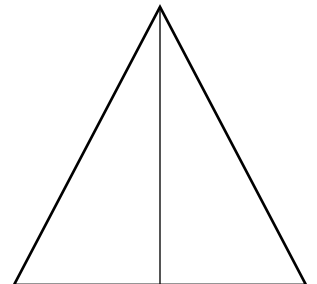
$\frac{1}{4}$



$\frac{7}{10}$



$\frac{3}{8}$



$\frac{1}{2}$

2. Gebruik die volgende breukemuur en vul in < ; > ; =

- a. $\frac{1}{2}$ $\frac{5}{6}$
- b. $\frac{2}{5}$ $\frac{3}{7}$
- c. $\frac{5}{8}$ $\frac{6}{7}$
- d. $\frac{2}{8}$ $\frac{3}{5}$

3. Optel van breuke kleur ook die blokkies in om die antwoord voor te stel:

a. $\frac{3}{8} + \frac{1}{8} + \frac{2}{8} =$

b. $\frac{4}{10} + \frac{8}{10} + \frac{2}{10} =$

c. $\frac{1}{5} + \frac{2}{5} + \frac{3}{5} =$

--	--	--	--	--

--	--	--	--	--

d. $\frac{1}{4} + \frac{2}{4} + \frac{1}{4} =$

--	--	--	--

4. Bereken die volgende:

a. $\frac{1}{7}$ van 63 =

b. $\frac{1}{3}$ van 21 =

c. $\frac{1}{6}$ van 36 =

d. $\frac{1}{8}$ van 24 =