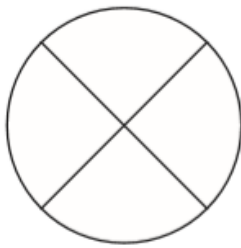


WorksheetCloud: Aktiwiteit

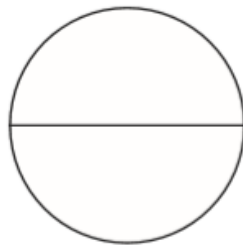
Graad 2

Wiskunde

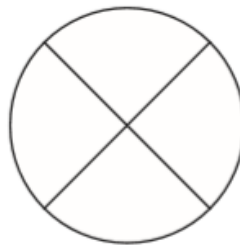
Breuke



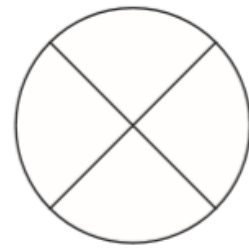
Een kwart



Half



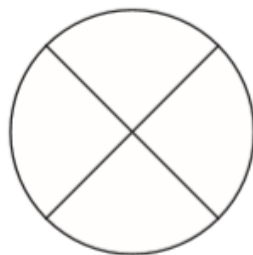
drie kwart



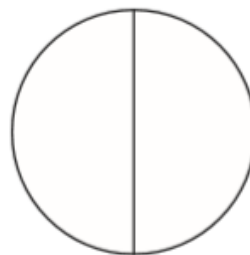
heel



Een derde



een kwart



heel



twee derdes

Hoe sal ons die volgende breuke skryf in syfers?

Een kwart _____

Een derde _____

