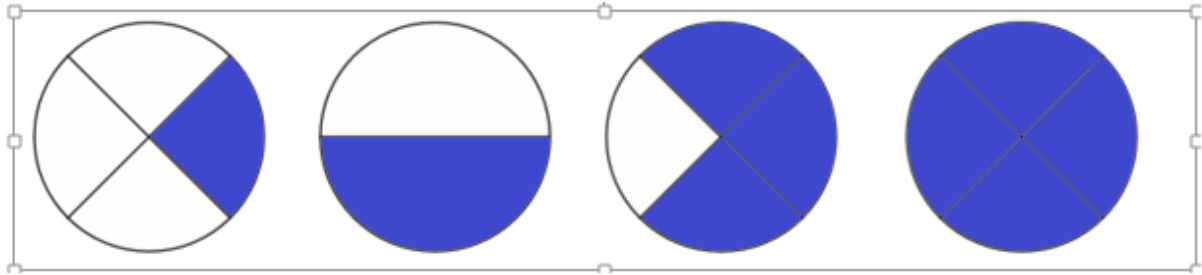


WorksheetCloud: Memorandum

Graad 2

Wiskunde

Breuke

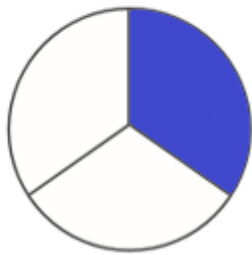


Een kwart

Half

drie kwart

heel



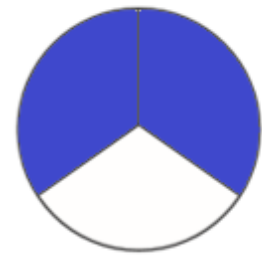
Een derde



een kwart



heel



twee derdes

Hoe sal ons die volgende breuke skryf in syfers?

Een kwart  $1/4$

Een derde  $1/3$

