






WorksheetCloud:Aktiwiteit

Graad 3

Wiskunde

Deel

Deel tussen 3	Hoeveel kry elkeen?	Hoe skryf ons die getalle sin?
	<p>① 2 3 4</p>	<p><math>3 \div 3 = \textcircled{1}</math></p>
<p>Deel tussen 2</p> 	<p>2 3 4 5</p>	<p><math>8 \div 2 =</math></p>
<p>Deel tussen 4</p> 	<p>2 3 4 5</p>	<p><math>12 \div 4 =</math></p>
<p>Deel tussen 3</p> 	<p>2 3 4 5</p>	<p><math>12 \div 3 =</math></p>
<p>Deel tussen 5</p> 	<p>2 3 4 5</p>	<p><math>10 \div 5 =</math></p>

